








Úloha 3-15 MATEMATIKA - POČÍTANIE

ZOO - počítame zvieratká. Prezri si obrázok, aké zvieratká sú na obrázku?
Koľko je v každej skupine zvieratiek?

3

1

2



Zakrúžkuj toľko zvieratiek, koľko udáva číslo.
Vyfarbi obrázok, každú skupinu inou farbou.