


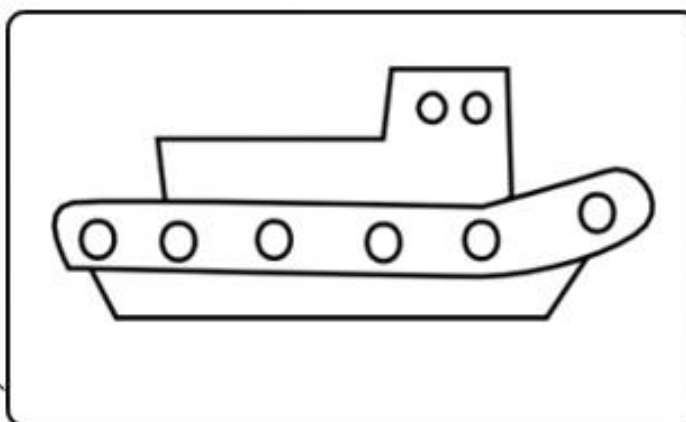

Úloha 2-5-1

POZORNOSŤ A GEOMETRICKÉ TVARY



Prezri si obrázky, pomenuj dopravné prostriedky.

Aké geometrické tvary sú nakreslené v každom obrázku?



Do každého políčka napíš, koľko rovnakých tvarov je na obrázku, s ktorým je políčko spojené. Vyfarbi obrázky.