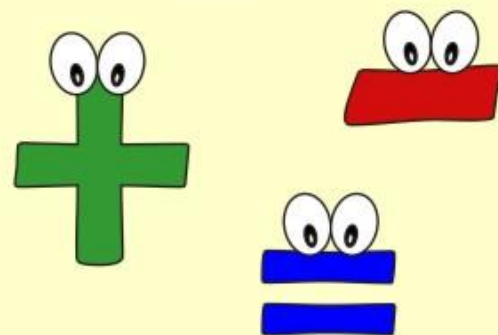


aj toto vydanie
je súčasťou
LICENCIE
ABC



predškolačik 123

matematika predškolača

Zoznamujeme sa s číslicami a číslami,
sčítame a odčítame od 1 do 6,
precvičujeme písanie číslic,
priradujeme čísla podľa počtu predmetov.

Časopis Predškoláčik 2014/1

Obsah

- Strana 1 – Číslica 1 – Matematika - precvičujeme číslice
- Strana 2 – Číslica 2 – Matematika - precvičujeme číslice
- Strana 3 – Číslica 3 – Matematika - precvičujeme číslice
- Strana 4 – Číslica 4 – Matematika - precvičujeme číslice
- Strana 5 – Číslica 5 – Matematika - precvičujeme číslice
- Strana 6 – Číslica 6 – Matematika - precvičujeme číslice
- Strana 7 – Dokresli správny počet - Matematika - počítanie
- Strana 8 – Prirad' číslo podľa počtu – Matematika - počítanie
- Strana 9 – Spočítaj správne – Matematika – počítanie do 6
- Strana 10 – Odpočítaj správne – Matematika – odpočítanie do 5

Predškolačik - 123

Matematika Predškolača - pracovný zošit 1/2014



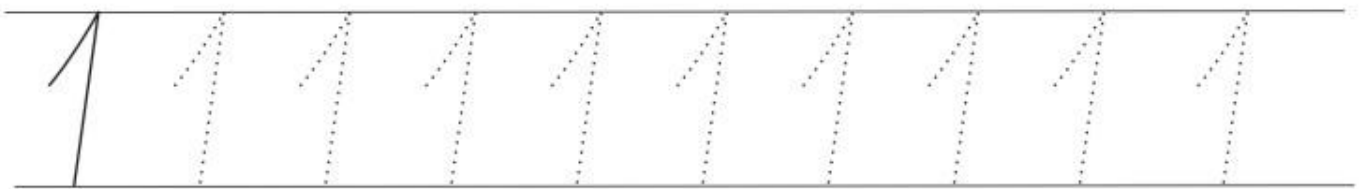
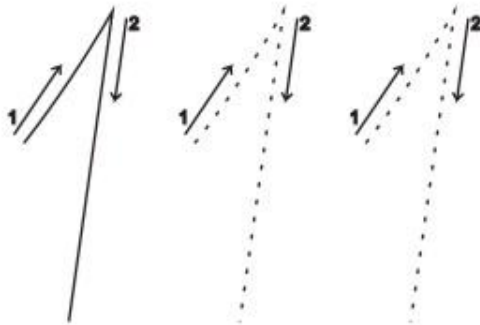
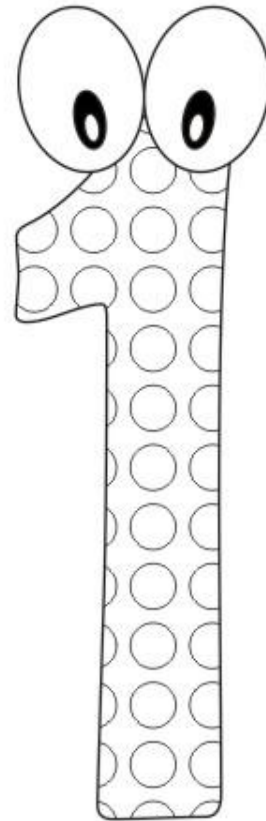
Zoznám sa s číslicou
1 - jeden.

dátum: _____
meno: _____



$$2 - 1 = \square$$

$$3 - 2 = \bigcirc$$



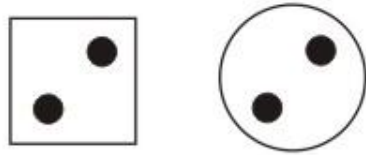
Predškolačik - 123

Matematika Predškolača - pracovný zošit 1/2014

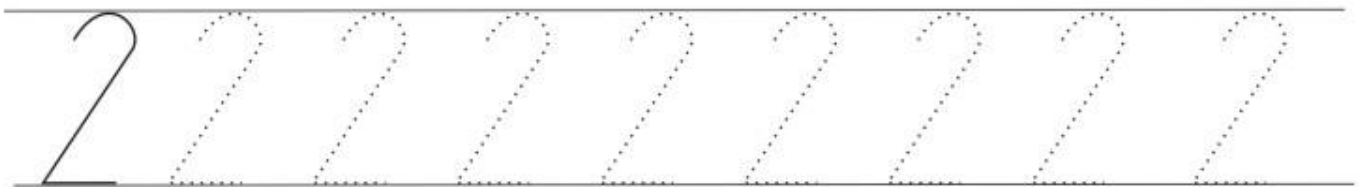
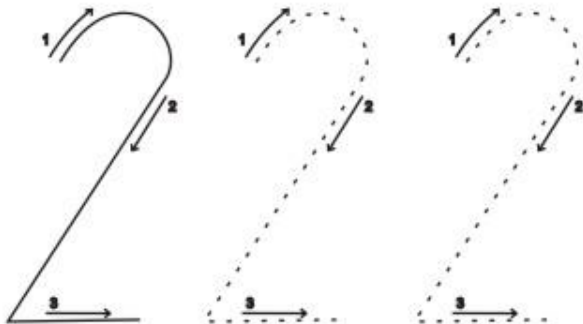
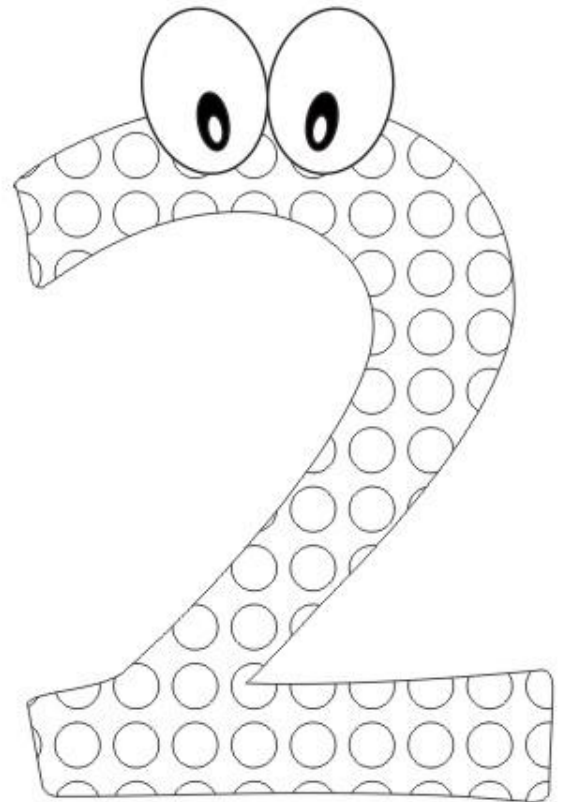


Zoznám sa s číslicou
2 - dva.

dátum: _____
meno: _____



$$\begin{array}{c} 1 + 1 = \square \\ 4 - 2 = \bigcirc \end{array}$$



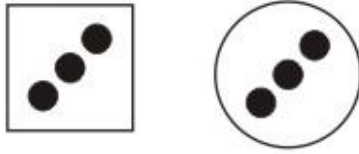
Predškolačik - 123

Matematika Predškolača - pracovný zošit 1/2014

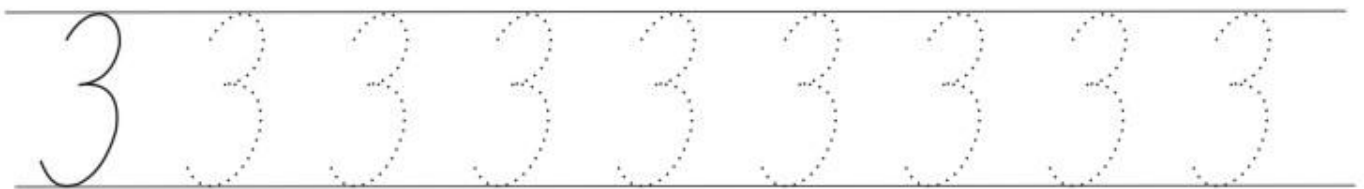
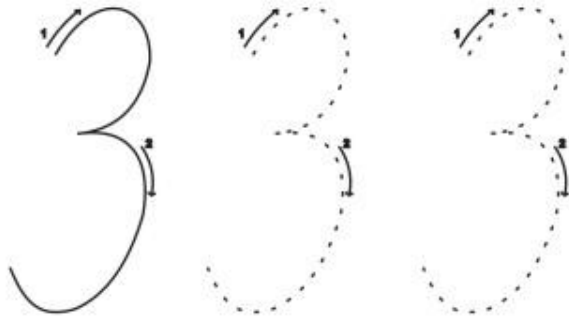
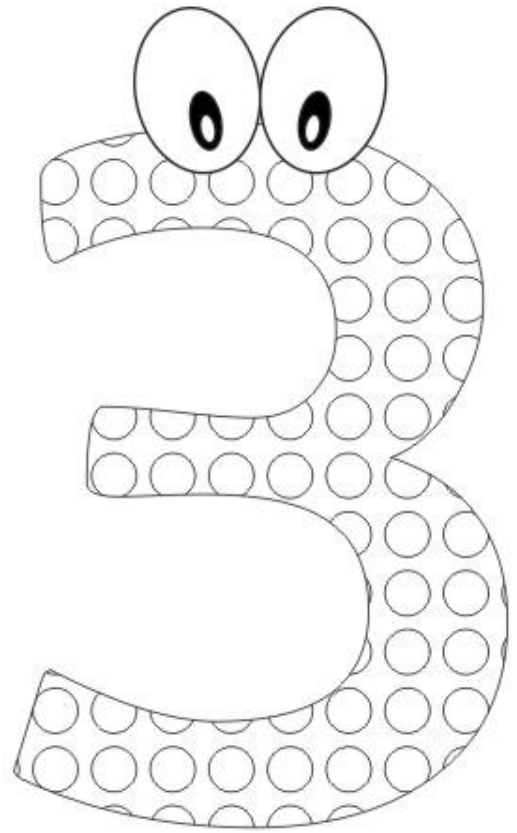


Zoznám sa s číslicou
3 - tri.

dátum: _____
meno: _____



$$1 + 2 = \bigcirc$$
$$4 - 1 = \square$$




Predškolačik - 123

Matematika Predškolača - pracovný zošit 1/2014



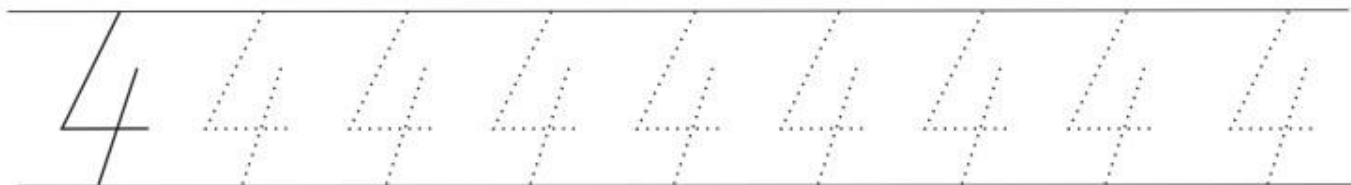

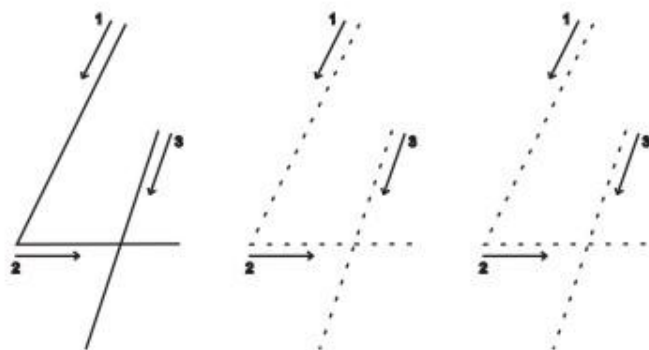
Zoznám sa s číslicou
4 - štyri.

dátum: _____
meno: _____



$$2 + 2 = \square$$

$$5 - 1 = \bigcirc$$



Predškolačik - 123

Matematika Predškolača - pracovný zošit 1/2014



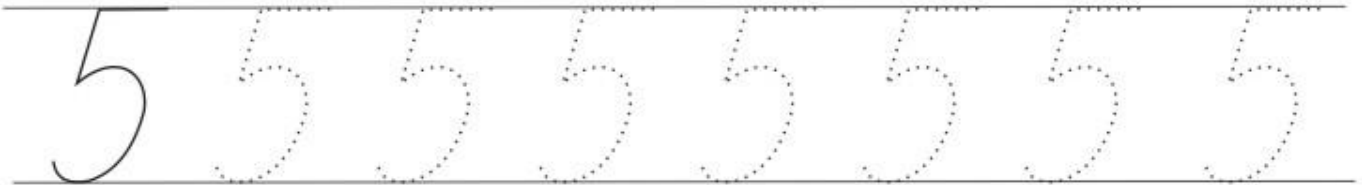
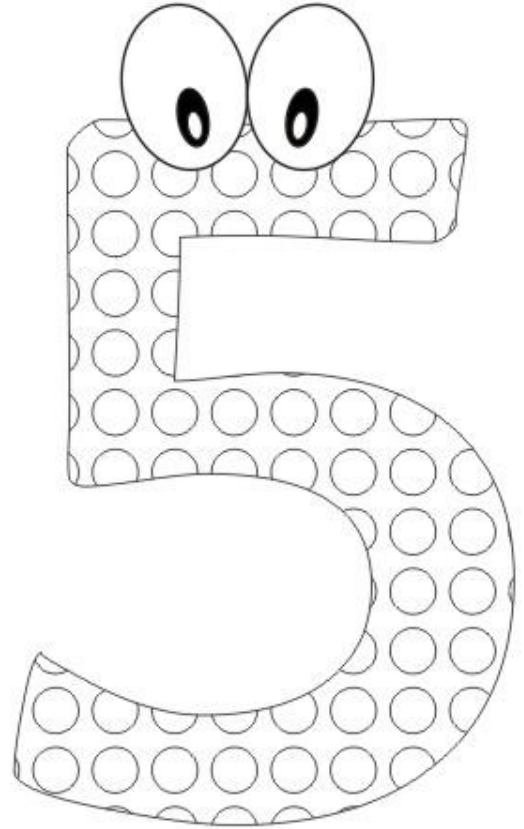
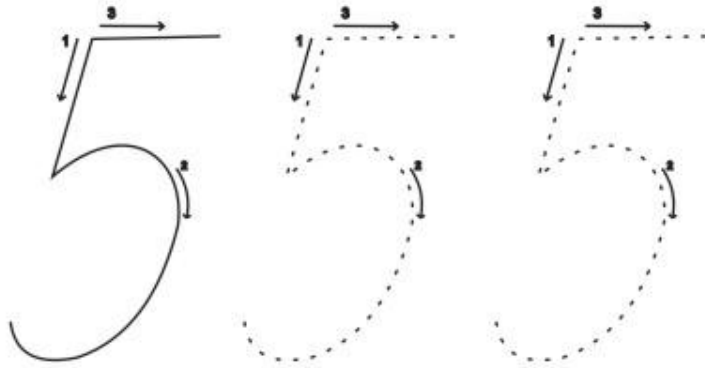
Zoznám sa s číslicou
5 - päť.

dátum: _____
meno: _____



$$1 + 4 = \bigcirc$$

$$2 + 3 = \square$$



Predškolačik - 123

Matematika Predškolača - pracovný zošit 1/2014



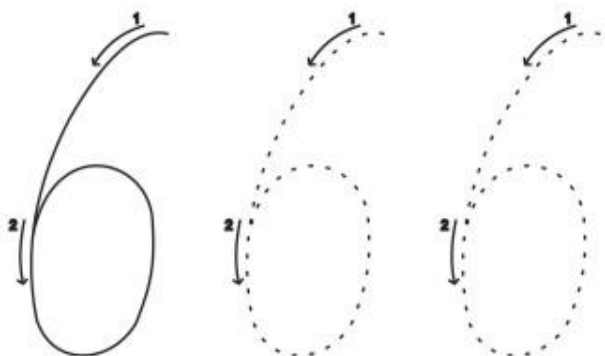
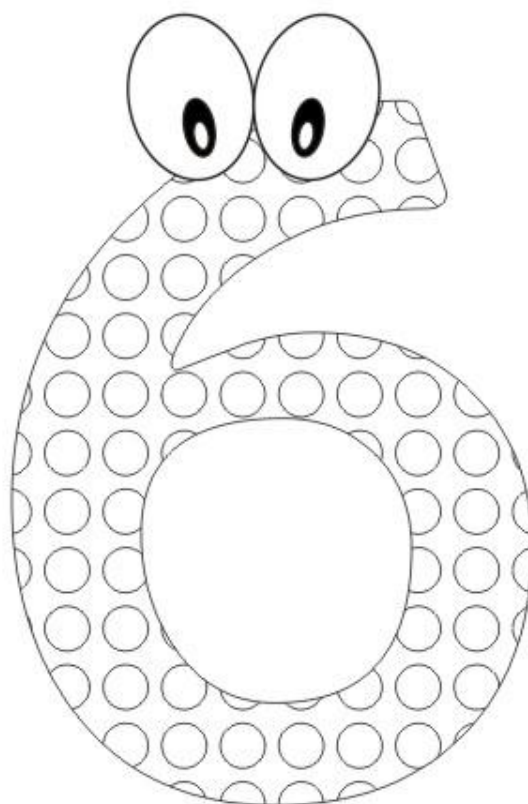
Zoznám sa s číslicou
6 - šesť.

dátum: _____
meno: _____



$$3 + 3 = \bigcirc$$

$$5 + 1 = \square$$



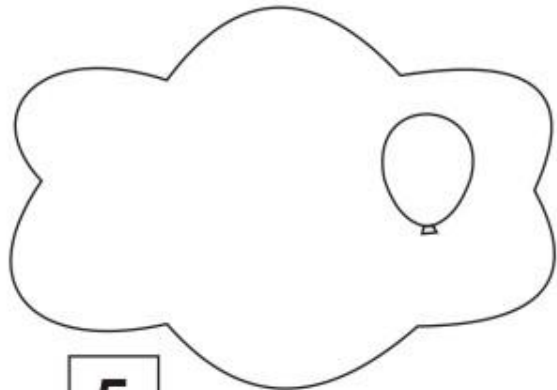
Predškolačik - 123

Matematika Predškolača - pracovný zošit 1/2014

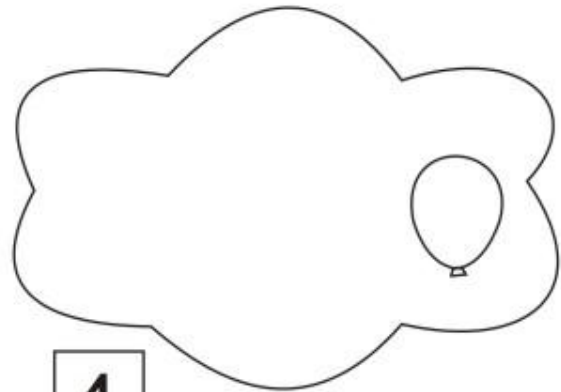


Dokresli podľa čísla množiny balónov.

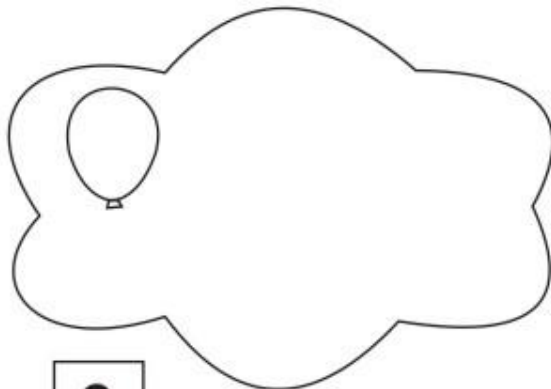
dátum: _____
meno: _____



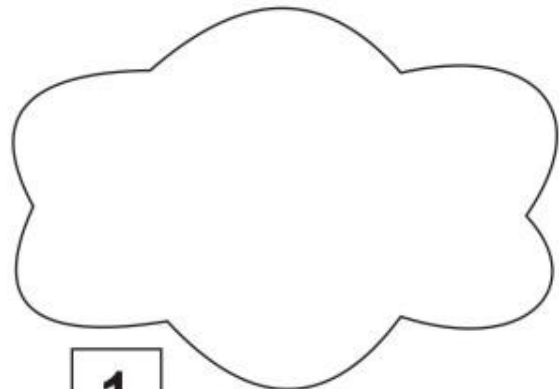
5



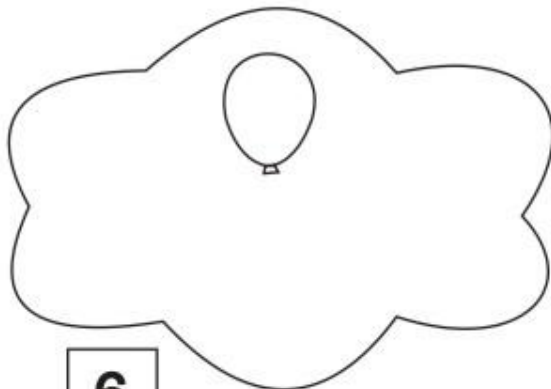
4



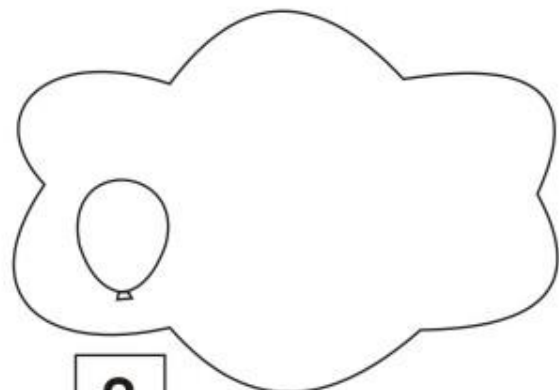
3



1



6



2

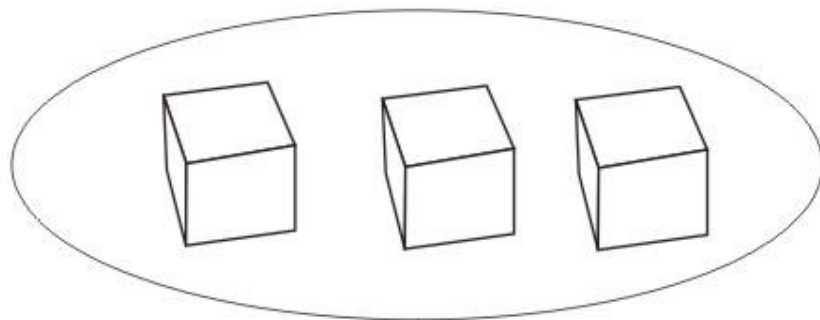
Predškolačik - 123

Matematika Predškolača - pracovný zošit 1/2014




Spočítaj a zakrúžkuj
správne číslo.


dátum: _____
meno: _____



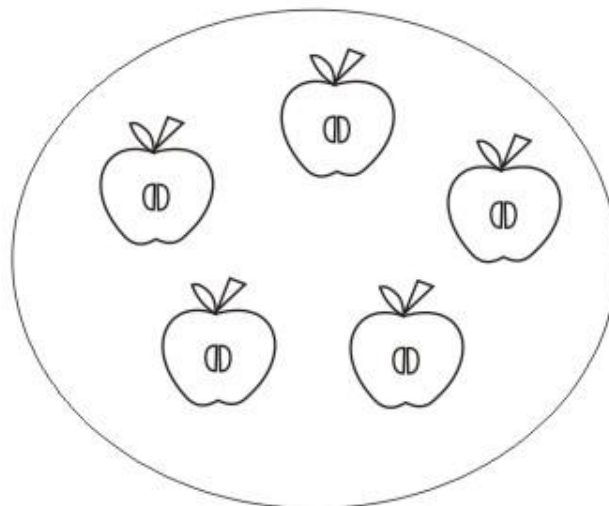
1 2 3 4 5 6




1 2 3 4 5 6



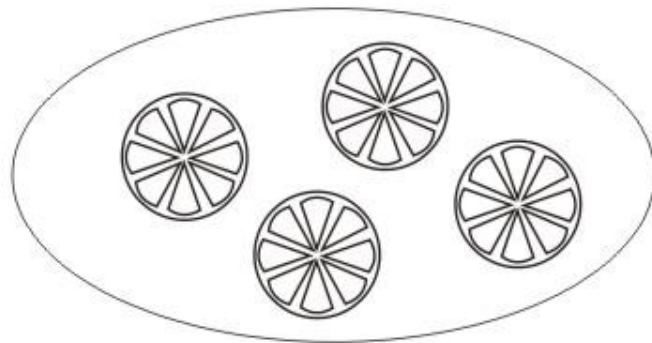
1 2 3 4 5 6



1 2 3 4 5 6



1 2 3 4 5 6



1 2 3 4 5 6

Predškolačik - 123

Matematika Predškolača - pracovný zošit 1/2014




Výsledky nakresli a
číslicu vpíš do rámtka.

dátum: _____

meno: _____



+




=

1

2



+



=

3

2




+



=

4

1




+



=

3

3



+



=

3

1

Predškolačik - 123


Matematika Predškolača - pracovný zošit 1/2014



Výsledky nakresli a
číslicu vpiš do rámmka.

dátum: _____

meno: _____



-




=

2

1



-



=

3

2




-



=

4

1




-



=

5

3



-



=

3

1

ABC Materské školy



Kreatívne web stránky pre škôlky

Interaktívny program Dieťa a svet

www.abcmaterskeskoly.sk

info@abcmaterskeskoly.sk

tel: 0918 150 571

Autor: © ABC všetky práva vyhradené