

Pracovný zošit

12/10 2013

# Gul'ôčka

abc materské školy

Vianoce, stromček sa ligoce



## Obsah zošita

- matematika
- počítanie, rozmer
- porovnávanie veľkostí

[www.abcmaterskeskoly.sk](http://www.abcmaterskeskoly.sk)



## Časopis GUĽôČKA 2013/10

### Obsah

Strana 1 - Vianoce - farebná predloha – Počítame, rozvíjame slovnú zásobu

Strana 2 - Vianoce - básnička

Strana 3 - Adventný stromček - pospájaj čísla od 1 do 24 – Počítame, poznávame čísla

Strana 4 - Porovnaj podľa výšky – Matematika – Rozmer - porovnáваме veľkosť

Strana 5 - Porovnaj podľa veľkosti – Matematika – Rozmer - porovnáваме veľkosť

Strana 6 - Spočítaj a zakrúžkuj správne číslo – Počítame, poznávame číslice

Strana 7 - Spoj od najmenšieho po najväčšie - Matematika - porovnáваме veľkosť

Strana 8 - Spočítaj a prirad' stoličky – Matematika – Počítame

Strana 9 - Spočítaj a nakresli menej – Matematika - Počítame

Strana 10 – Vianočný stromček – šablóna – Rozvíjame grafomotoriku

# Vianoce



# Vianoce

**Vianoce sú stromček krásny,  
ako mesiac na oblohe jasný.**

**Vianoce sú voňavé koláče,  
ktoré nám babička upečie.**

**Vianoce sú darčeky od Ježiška,  
úsmev a bozk mamičky a otecka.**

**Vianoce sú, keď zvonček zazvoní,  
keď sme všetci spolu, ja, ty, my.**

**Vianoce sú rozžiarené detské očka,  
pokoj a mier na svete, nádej a láska.**

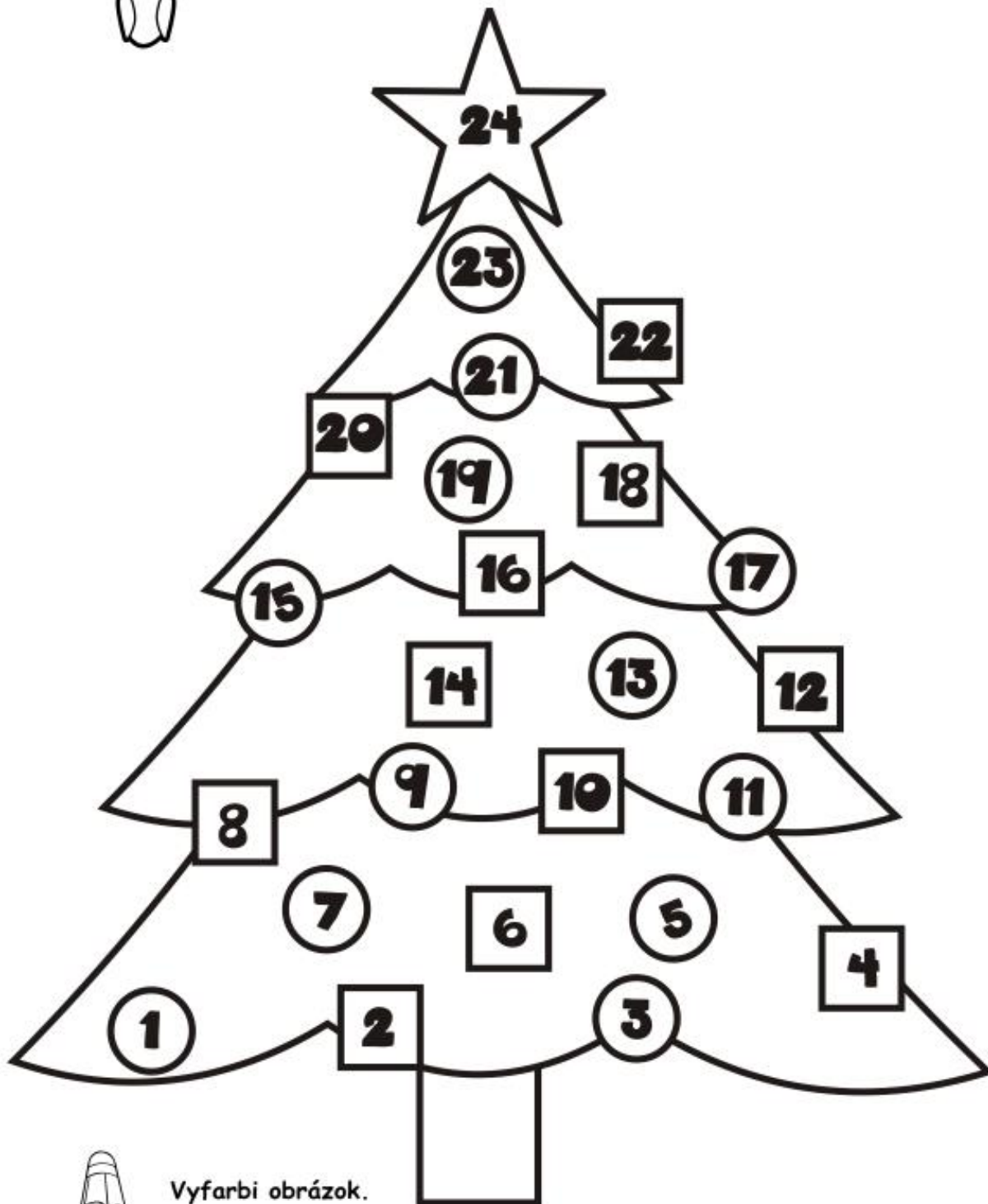
**autor: © ABC**

Úloha 3-7

ADVENTNÝ STROMČEK



Pospájaj čísla od 1 do 24 a vytvor adventnú reťaz.



Vyfarbi obrázok.



Porovnaj podľa výšky snehuliakov a stromčeky.




Spoj najmenšieho snehuliaka s najmenším stromčekom, stredného so stredným a najväčšieho s najvyšším stromčekom. Vyfarbi obrázok.

Úloha 3-7-2

MATEMATIKA - ROZMER



Prezri si obrázok. Porovnaj a spočítaj hviezdičky podľa veľkosti.



Zakrúžkuj najmenšie hviezdy žltou, stredné červenou a najväčšie zelenou pastelkou. Vyfarbi hviezdičky podľa farby, akou sú zakrúžkované.

autor: © ABC Materská škola

[www.abcmaterskeskoly.sk](http://www.abcmaterskeskoly.sk)

Úloha 3-7-3

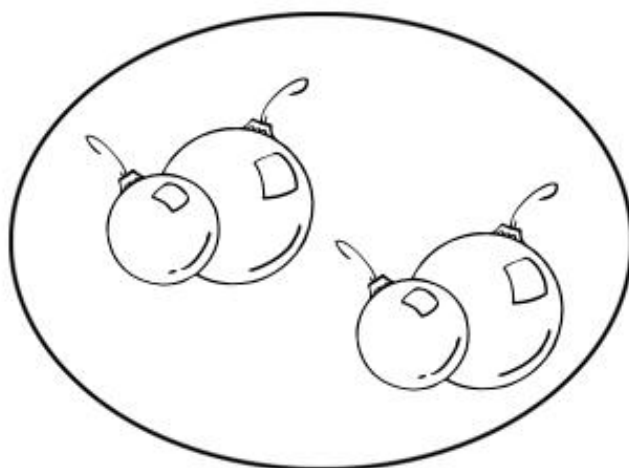
RÁTAME A POČÍTAME




Koľko je v každej skupine predmetov?  
Spočítaj a zakrúžkuj správne číslo.



1 2 3 4



1 2 3 4



1 2 3 4



1 2 3 4



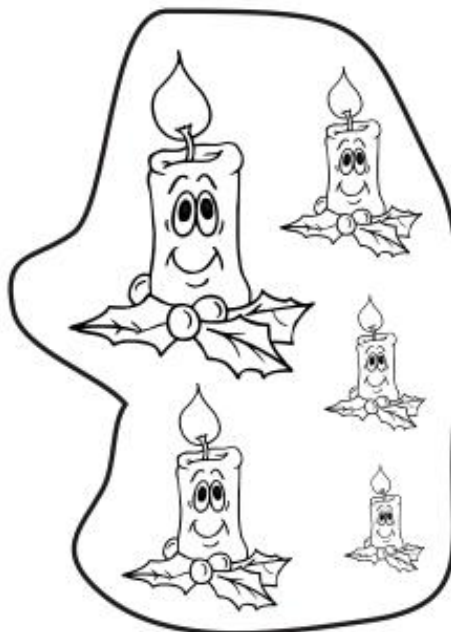
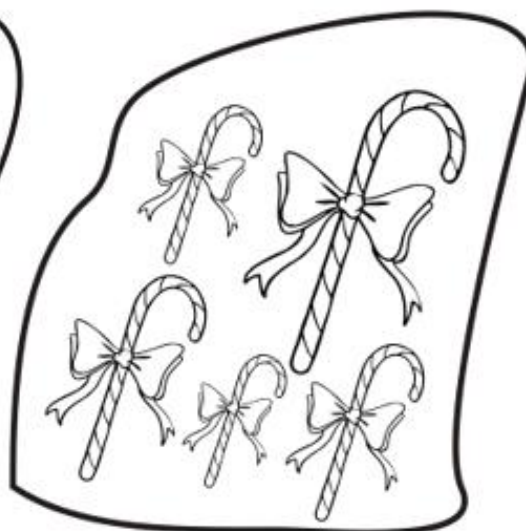
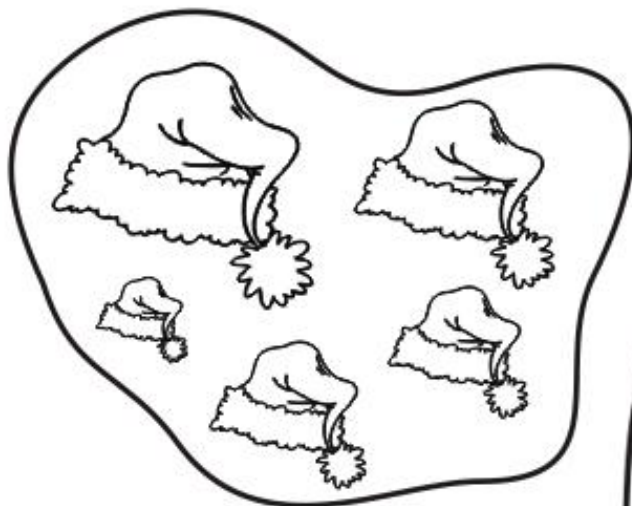
Vyfarbi obrázok, každú skupinu inou farbou.

Úloha 3-7-4

MATEMATIKA - ROZMER



Spoj obrázky v každej skupine čiarou od najmenšieho k najväčšiemu.



Vyfarbi každú skupinu obrázkov inou farbou.

autor: © ABC Materská škola

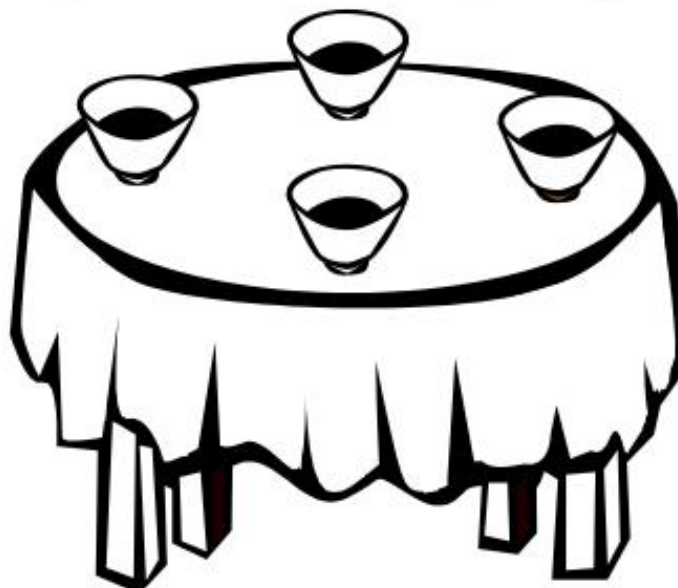
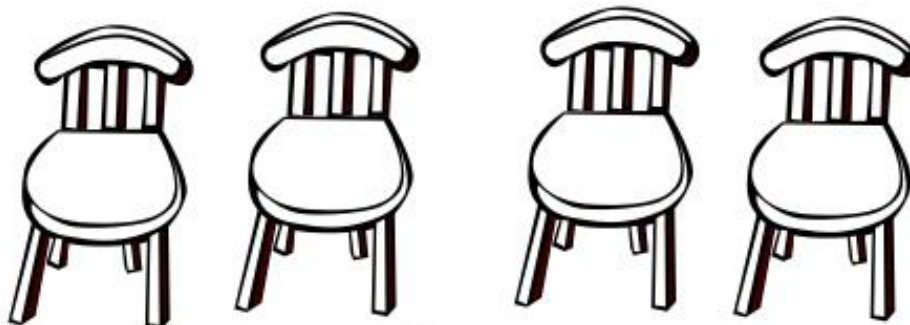
[www.abcmaterskeskoly.sk](http://www.abcmaterskeskoly.sk)

Úloha 3-7-5

RÁTAME A POČÍTAME



Prezri si obrázok, spočítaj, koľko je stoličiek a koľko misiek na stole?



Obtiahni rovnaký počet stoličiek ako je počet misiek. Vyfarbi obrázok.

autor: © ABC Materská škola


[www.abcmaterskeskoly.sk](http://www.abcmaterskeskoly.sk)

Úloha 3-7-6

RÁTAME A POČÍTAME



Spočítaj, koľko je koláčov na každom obrázku?



Ku každému obrázku nakresli vždy menej koláčov, ako je v nakreslenej časti. Vyfarbi obrázok.

autor: © ABC Materská škola

[www.abcmaterskeskoly.sk](http://www.abcmaterskeskoly.sk)

# Šablóna stromček

